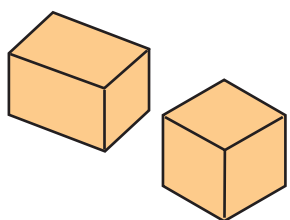
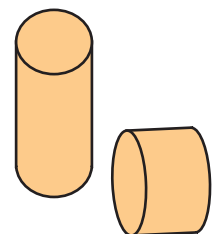


いろいろなかたち-りったい

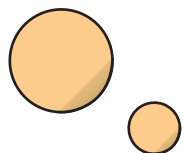
つみきを その かたちで 3つの なかまに わけました。



はこの かたち



つつの かたち



たまの かたち



さんかくの つみきは
どの なかまかな



さんかくの つみきは たいらな めんだけで できているので
はこの なかまと かんがえます。

つぎの それぞれの ものは どの かたちの なかまでしょう。


「はこ」「つつ」「たま」でこたえましょう。



()の かたち



()の かたち



()の かたち



()の かたち




()の かたち



()の かたち


つみきで いろいろな ものを つくりました。
それぞれ どの かたちの つみきを いくつ つかいましたか。
()に かずを かきましょう。



はこの かたち ()こ

つつの かたち ()こ

たまの かたち ()こ

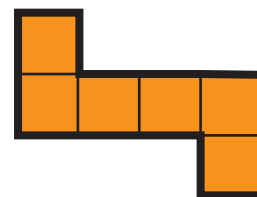


はこの かたち ()こ

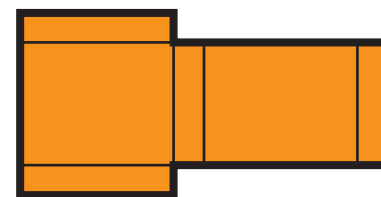
つつの かたち ()こ

たまの かたち ()こ


ふとせんに そって きり、くみたてると どの かたちが できますか。
せんで むすびなさい。



●



●



●

