

0がはいった たしざん ひきざん



りんごが みぎてに 2こ、ひだりてに 1こ。あわせると・・・

$$2 + 1 = ()$$

に たす いち は



みぎてに 2こ、ひだりてに 0こだとあわせて いくつかな？

$$2 + 0 = ()$$

に たす れい は



みぎてに 0こ、ひだりてに 0こだとどうなりますか。

$$0 + 0 = ()$$

れい たす れい は

おおきな おさらの りんごは いくつ？

けいさん れんしゅう

$$5 + 0$$


$$3 + 0$$

$$0 + 1$$

$$0 + 2$$

$$0 + 4$$

$$0 + 0$$




りんごが きに 3こ なくなって います。
3こ とると のこりは なんこ？

しき

$$3 - 3 = ()$$

さん ひく さん は
こたえ () こ




りんごが きに 2こ なくなって います。
2こ とると のこりは なんこ？

しき

$$() - () = ()$$

こたえ () こ



りんごが きに 0こ なくなって います。
0こ とると のこりは なんこ？

しき

$$() - () = ()$$

こたえ () こ

あれ？ りんごが ないよ。

けいさん れんしゅう

$$5 - 0$$

$$2 - 0$$

$$1 - 1$$

$$5 - 5$$

$$4 - 4$$

$$0 - 0$$