



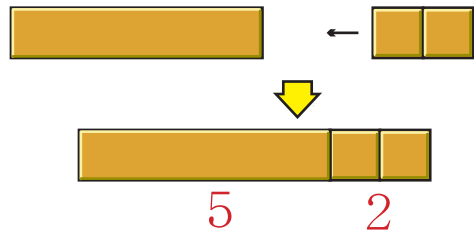
9までの たしざん

きんぎょが すいそくに 5ひき います。2ひき かってきました。
なんひきに なりましたか。

おともだちが
ふえたよ















いま あるところへ
つけくわえる ときも
たしざんです。

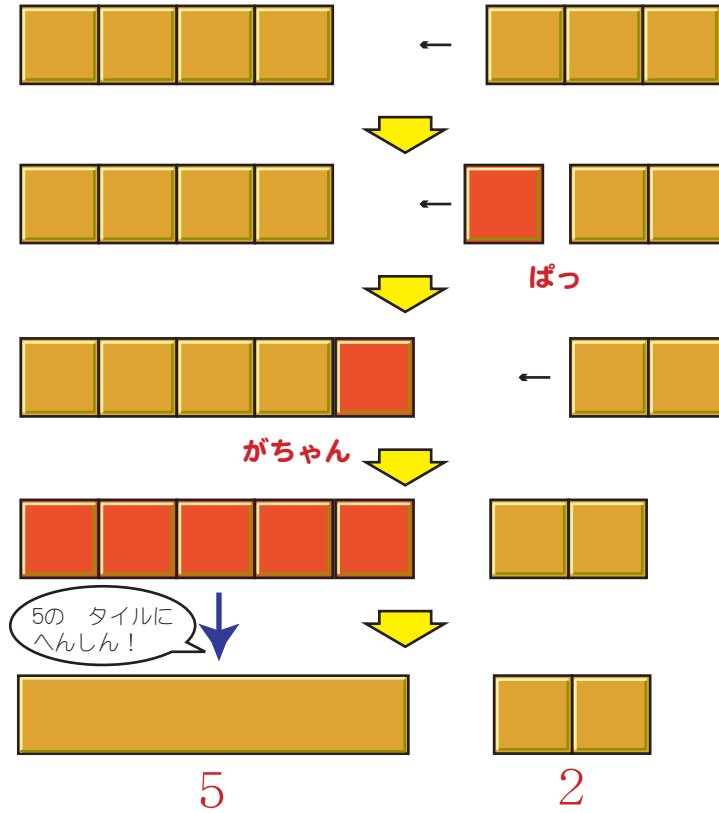


$$5 + 2 = \square$$

タイルをみて、たしざんのしきとこたえをかきましょう。

 ←  ()	 ←  ()
 ←  ()	 ←  ()
 ←  ()	 ←  ()

★ 4 + 3 に ちょうせん!



4の タイルと
3の タイルを
くっつける まえに

3の タイルのうち
1だけを はじめに
くっつけます













すると
4と 1が
くっついて...

5と 2に
なります。

4+3の こたえは
7です。

タイルをみて、たしざんのしきとこたえをかきましょう。

まずは 5の たいるをつくって みよう!

 ←  ()	 ←  ()
 ←  ()	 ←  ()
 ←  ()	 ←  ()